

**Društvo matematikov, fizikov  
in astronomov Slovenije**

Jadranska ulica 19  
1000 Ljubljana

# **Tekmovalne naloge DMFA Slovenije**

Društvo matematikov, fizikov in astronomov Slovenije dovoljuje shranitev v elektronski obliki, natis in uporabo gradiva v tem dokumentu **za lastne potrebe učenca/dijaka/študenta in za potrebe priprav na tekmovanje na šoli, ki jo učenec/dijak/študent obiskuje**. Vsakršno drugačno reproduciranje ali distribuiranje gradiva v tem dokumentu, vključno s tiskanjem, kopiranjem ali shranitvijo v elektronski obliki je prepovedano.

Še posebej poudarjamo, da **dokumenta ni dovoljeno javno objavljati na drugih spletnih straneh** (razen na [www.dmfa.si](http://www.dmfa.si)), dovoljeno pa je dokument hraniti na npr. spletnih učilnicah šole, če dokument ni javno dostopen.



**16. tekmovanje v znanju  
matematike za dijake srednjih  
tehniških in strokovnih šol**  
Državno tekmovanje, 16. april 2016

Prilepi nalepko s šifro

**Naloge za 1. letnik**

Čas reševanja: 120 minut. V sklopu A bomo vsak pravilni odgovor ovrednotili s tremi točkami, za vsak nepravilni odgovor pa bomo eno točko odšteli. Odgovore sklopa A vpiši v levo tabelo, desno tabelo pusti prazno.

A1	A2	A3

B1	B2	B3

**A1.** Sara in Klara imata skupaj 816 evrov. Če bi Sara porabila  $\frac{3}{5}$  svojega denarja in Klara  $\frac{3}{7}$  svojega denarja, bi obema ostalo enako. Koliko denarja ima Sara?

- (A) 408 evrov      (B) 366 evrov      (C) 336 evrov      (D) 480 evrov      (E) 816 evrov

**A2.** Smetana predstavlja 7 % mase mleka, iz 61 % mase smetane pa nastane maslo. Iz koliko mleka nastane 3 kg masla?

- (A) manj kot 5 kg      (B) 17 kg      (C) 54 kg      (D) 69 kg      (E) več kot 70 kg

**A3.** V katerega izmed navedenih izrazov lahko preoblikujemo izraz  $(x + y + \frac{1}{4})^2 - (x + y - \frac{1}{4})^2$ ?

- (A)  $4xy$       (B)  $\frac{1}{16}$       (C)  $\frac{1}{8}$       (D) 0      (E)  $x + y$

**B1.** Izračunaj, za kateri realni vrednosti parametrov  $a$  in  $b$  ima ulomek

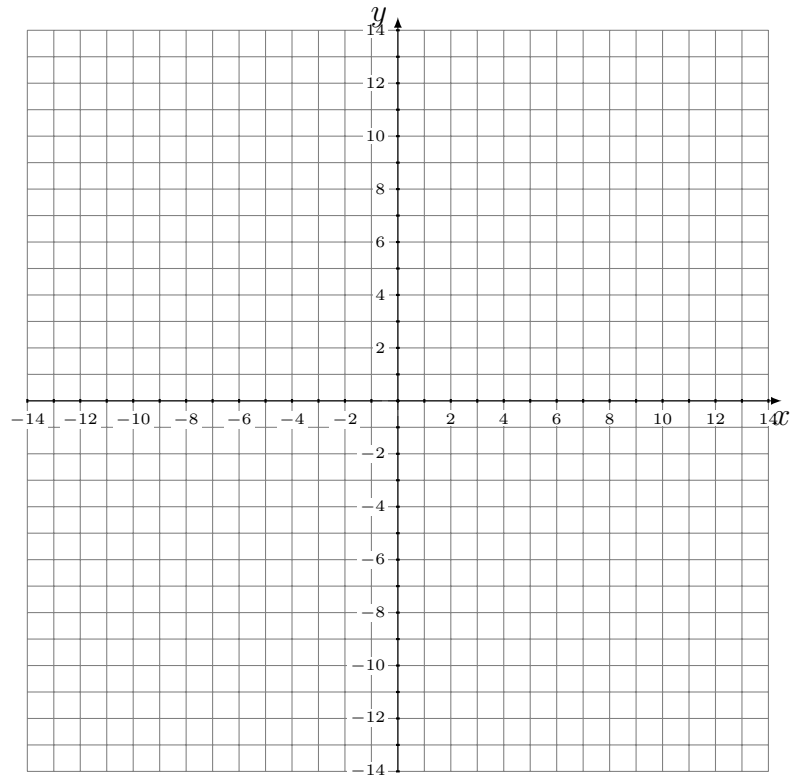
$$\frac{3x - 2b}{ax + 4b}$$

za  $x = 1$  vrednost 2, za  $x = -\frac{1}{2}$  pa vrednost  $-1$ .

(8 točk)

**B2.** Točke  $A(2, -1)$ ,  $B(-1, -5)$  in  $C(-3, -13)$  so oglišča trikotnika  $ABC$ . Izračunaj dolžino težiščnice na stranico  $BC$ . Rezultat naj bo natančen in delno korenjen. Točki  $A$  in  $B$  prezcali čez abscisno os. Dobljeni točki označi z  $A'$  in  $B'$ . Nariši štirikotnik  $AA'B'B$  in izračunaj njegovo ploščino.

(8 točk)



**B3.** Poenostavi izraz

$$\frac{\frac{2xy}{x+y} - x}{\frac{1}{y} + \frac{1}{x-2y}} + \frac{(x^2 - xy + y^2)(x^3 - x(x-y)^2)}{x^3 + y^3}.$$

Za katere realne vrednosti  $x$  in  $y$  izraz nima pomena?

(8 točk)

### Naloge za 2. letnik

Čas reševanja: 120 minut. V sklopu A bomo vsak pravilni odgovor ovrednotili s tremi točkami, za vsak nepravilni odgovor pa bomo eno točko odšteli. Odgovore sklopa A vpiši v levo tabelo, desno tabelo pusti prazno.

A1	A2	A3

B1	B2	B3

**A1.** Katera izmed navedenih enačb premic je enačba simetrale daljice s krajiščema  $A(3, -3)$  in  $B(2, -2)$ ?

(A)  $y = -x - 3$

(B)  $x + y - 1 = 0$

(C)  $x - y - 5 = 0$

(D)  $3x - 2y = 0$

(E)  $\frac{x}{3} - \frac{y}{2} = 1$

**A2.** Naj bodo  $a$ ,  $b$  in  $c$  dolžine stranic trikotnika in naj velja  $c^2 = a^2 + b^2 + ab$ . Katera izmed navedenih trditev velja za tak trikotnik?

(A) Trikotnik je enakostraničen.

(B) Trikotnik je ostrokoten.

(C) Višinska točka leži izven trikotnika.

(D) Trikotnik je pravokoten.

(E) Središče trikotniku očrtane krožnice je razpolovišče najdaljše stranice.

**A3.** Koliko je vrednost izraza  $\left(\frac{\sqrt{5}-3}{2}\right)^{2016} \frac{\sqrt{5}-3}{2} \left(\frac{\sqrt{5}+3}{2}\right)^{2016}$  ?

(A) 1

(B)  $\frac{\sqrt{5}}{2}$

(C)  $\frac{\sqrt{5}-3}{2}$

(D)  $\frac{3-\sqrt{5}}{2}$

(E)  $\frac{(\sqrt{5})^{2016} + 3^{2016}}{8}$

**B1.** Ali velja

$$\left( \left( \frac{1}{a} \right)^{\frac{2}{3}} + \frac{a^{\frac{1}{3}}}{a+2} \right) : \left( \sqrt[3]{a} + \frac{a^{\frac{1}{3}}}{a+2} \right) = \frac{2(a+1)}{a(a+3)}$$

za vsak realen  $a$  razen za  $a \neq 0$ ,  $a \neq -2$  in  $a \neq -3$ ? Ugotovitev utemelji.

(8 točk)

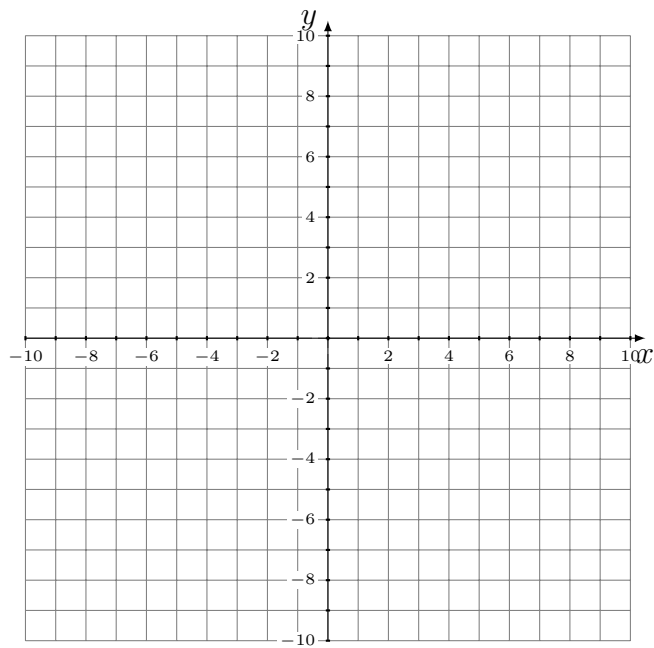
B2. a) Nariši graf funkcije  $f$  s predpisom

$$f(x) = \begin{cases} 2x + 1 & \text{za } x > 1, \\ -x + 5 & \text{za } x \leq 1. \end{cases}$$

(3 točke)

b) Naj bo  $g(x) = 2x + 1$ . Zapiši vse vrednosti spremenljivke  $x$ , za katere velja enakost  $g^{-1}(x) = g(x^{-1})$ ?

(5 točk)





**B3.** Obseg pravokotnika je 4 cm, velikost kota med diagonalama pa  $60^\circ$ . Nariši skico pravokotnika z označenim kotom med diagonalama. Izračunaj dolžini obeh stranic tega pravokotnika. Rezultat naj bo natančen in zapisan v obliki okrajšanih ulomkov z racionaliziranimi imenovalci. Nalogo reši brez uporabe žepnega računalnika.

(8 točk)



16. tekmovanje v znanju  
matematike za dijake srednjih  
tehniških in strokovnih šol  
Državno tekmovanje, 16. april 2016

Prilepi nalepko s šifro

Naloge za 3. letnik

Čas reševanja: 120 minut. V sklopu A bomo vsak pravilni odgovor ovrednotili s tremi točkami, za vsak nepravilni odgovor pa bomo eno točko odšteli. Odgovore sklopa A vpiši v levo tabelo, desno tabelo pusti prazno.

A1	A2	A3

B1	B2	B3

A1. Ploščina pravilnega šestkotnika je  $96\sqrt{3}$  cm<sup>2</sup>. Koliko je obseg tega šestkotnika?

- (A) 48 cm      (B) 24 cm      (C) 96 cm      (D) 16 cm      (E) 20 cm

A2. Naj bo  $f(x) = \frac{1}{\sqrt{a^x}}$ ,  $a > 0$  in  $a \neq 1$ . Koliko je  $f(\log_a 4)$ ?

- (A) 2      (B)  $-\frac{1}{2}$       (C)  $\frac{1}{2}$       (D)  $-4$       (E)  $-2$

A3. Kocko z robom dolžine  $a$  razrežemo na 8 malih skladnih kock. Površino ene take male kocke označimo s  $P$ . Koliko je  $P$ ?

- (A)  $\frac{a^2}{2}$       (B)  $\frac{3a^2}{4}$       (C)  $\frac{a^2}{8}$       (D)  $\frac{3a^2}{2}$       (E)  $a^8$

**B1.** Imamo šotor v obliki stožca, katerega plašč je krožni izsek s polmerom dolžine 3 m in središčnim kotom, ki je velik  $120^\circ$ .

a) Izračunaj višino šotora. Rezultat naj bo natančen.

(5 točk)

b) Osnovna ploskev šotora je iz enakega platna kot plašč. En kvadratni meter tega platna tehta 0,16 kg. Koliko kilogramov tehta platno za osnovno ploskev in plašč šotora? Rezultat zaokroži na eno mesto natančno.

(3 točke)

**B2.** Naj bo  $m$  realno število in  $f(x) = (m - 2)x^2 - 2mx + 3m$ .

a) Izračunaj vrednost parametra  $m$  tako, da bo graf funkcije  $f$  potekal skozi točko  $T(-2, 3)$ . Za tako izračunano vrednost parametra  $m$  zapiši predpis funkcije  $f$ .

(3 točke)

b) Izračunaj, za katero vrednost parametra  $m$  graf funkcije  $f$  ni parabola. Kaj je v tem primeru graf funkcije  $f$ ? Za tako izračunano vrednost parametra  $m$  zapiši predpisa funkcije  $f$  in njene inverzne funkcije  $f^{-1}$ .

(5 točk)

**B3.** Reši sistem enačb:

$$2 \log_3 x - \log_3 y = 2 - \log_3 2,$$

$$0,2^{\sqrt{2x-y-2,5}} = 1.$$

(8 točk)



16. tekmovanje v znanju  
matematike za dijake srednjih  
tehniških in strokovnih šol  
Državno tekmovanje, 16. april 2016

Prilepi nalepko s šifro

Naloge za 4. letnik

Čas reševanja: 120 minut. V sklopu A bomo vsak pravilni odgovor ovrednotili s tremi točkami, za vsak nepravilni odgovor pa bomo eno točko odšteli. Odgovore sklopa A vpiši v levo tabelo, desno tabelo pusti prazno.

A1	A2	A3

B1	B2	B3

**A1.** Aritmetična sredina dveh pozitivnih števil je 65, njuna geometrijska sredina pa 60. Koliko je absolutna vrednost razlike teh dveh števil?

- (A) 10                      (B) 20                      (C) 30                      (D) 40                      (E) 50

**A2.** Koliko je  $1 + 3,5 + 6 + 8,5 + \dots + 2501$ , če je razlika med zaporednima seštevancema stalna?

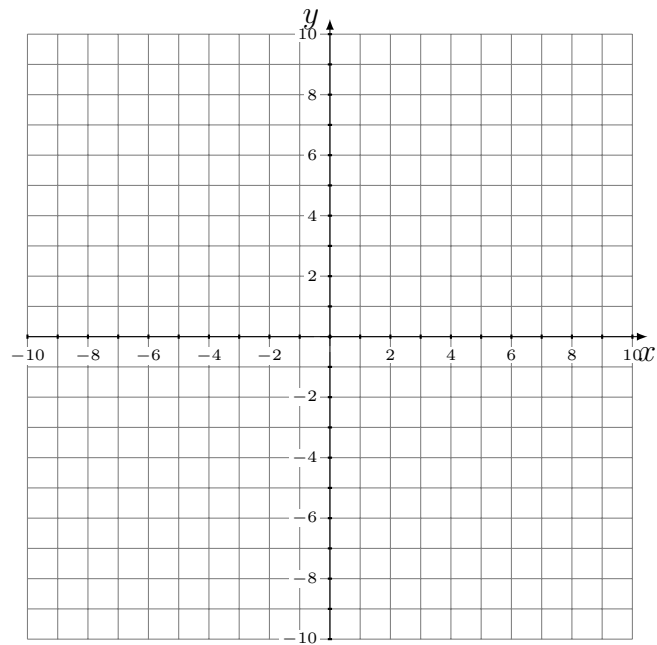
- (A) 1249750                (B) 1251000                (C) 1251750,5                (D) 1252251                (E) 1253502,5

**A3.** Katera izmed navedenih trditev ne velja za funkcijo  $f$  s predpisom  $f(x) = \frac{1}{2} - \frac{1}{2} \cos x$ ?

- (A) Zaloga vrednosti funkcije  $f$  je  $[0, 1]$ .                      (B) Osnovna perioda funkcije  $f$  je  $2\pi$ .  
(C) Funkcija  $f$  je soda.                      (D) Ničle funkcije  $f$  so  $x = k\pi, k \in \mathbb{Z}$ .  
(E) Funkcija  $f$  doseže največjo vrednost za  $x = \pi + 2k\pi, k \in \mathbb{Z}$ .

**B1.** Dana je funkcija  $f$  s predpisom  $f(x) = \frac{x^2+4x+3}{x^2+1}$ . Izračunaj ničle, pole, enačbo asimptote, koordinate presečišča grafa funkcije  $f$  z ordinatno osjo in presečišča grafa funkcije  $f$  z asimptoto ter nariši graf funkcije  $f$  brez računanja ekstremov. Za katere vrednosti spremenljivke  $x$  so vrednosti funkcije  $f$  pozitivne?

(8 točk)



**B2.** Naj bo

$$f(x) = \ln x \quad \text{in} \quad g(x) = \frac{1}{3}x^3 - x^2 - 6x + 4$$

ter  $p$  tangenta na graf funkcije  $f$  v točki  $S(a, b)$ ,  $q$  pa tangenta na graf funkcije  $g$  v točki  $T(a, c)$ . Tangenta  $p$  je pravokotna na tangento  $q$ . Izračunaj vrednost  $a$ .

(8 točk)



**B3.** Izbrati si moramo sedemmestno geslo, ki vsebuje vsaj eno črko in vsaj eno števko. Izbiramo lahko med znaki  $A, B, C, G, J, M, R, Z$  in  $3$ .

a) Koliko je vseh možnih izbir za geslo, če se znaki ne smejo ponavljati?

(4 točke)

b) Koliko je vseh možnih izbir za geslo, če se znaki lahko ponavljajo?

(4 točke)



**16. tekmovanje v znanju  
matematike za dijake srednjih  
tehniških in strokovnih šol**  
Državno tekmovanje, 16. april 2016

**Rešitve nalog in točkovnik**

(3. APRIL 2016, 20:53)

**Tekmovalec, ki je prišel po katerikoli pravilni metodi do rešitve (četudi točkovnik take ne predvideva), dobi vse možne točke.**

Za pravilno metodo se upošteva vsak postopek, ki:

- smiselno upošteva besedilo naloge,
- vodi k rešitvi problema,
- je matematično pravilen in popoln.

Če je kakšen vmesni ali končni rezultat možno prepoznati, uganiti, odčitati iz slike ali izračunati na pamet, tekmovalcu praviloma pripadajo vse predvidene točke. Če pa je rešitev uganjena (do nje ni možno priti brez računanja), tudi zgolj slučajna brez zapisanega preizkusa oziroma dokaza, jo točkujemo z 0 točkami.

Tekmovalec, ki je le delno rešil nalogo, iz sicer pravilnih postopkov reševanja pa ni videti poti do končne rešitve naloge, ne more dobiti več kot polovice možnih točk.

Oznaka '\*' pri točkah pomeni, da točko oz. točke tekmovalec lahko dobi za pravilni postopek, čeprav je morda izračun nepravilen.

Prvi letnik

A1	A2	A3
D	E	E

**A1.** Označimo z  $x$  količino Sarinega denarja in z  $y$  količino Klarinega denarja. Potem je  $x + y = 816$  in  $\frac{2}{5}x = \frac{4}{7}y$ . Iz druge enačbe izrazimo  $x = \frac{10}{7}y$  in vstavimo v prvo enačbo. Tako dobimo  $\frac{17}{7}y = 816$ . Torej je  $y = 336$  in  $x = 480$ . Sara ima 480 evrov.

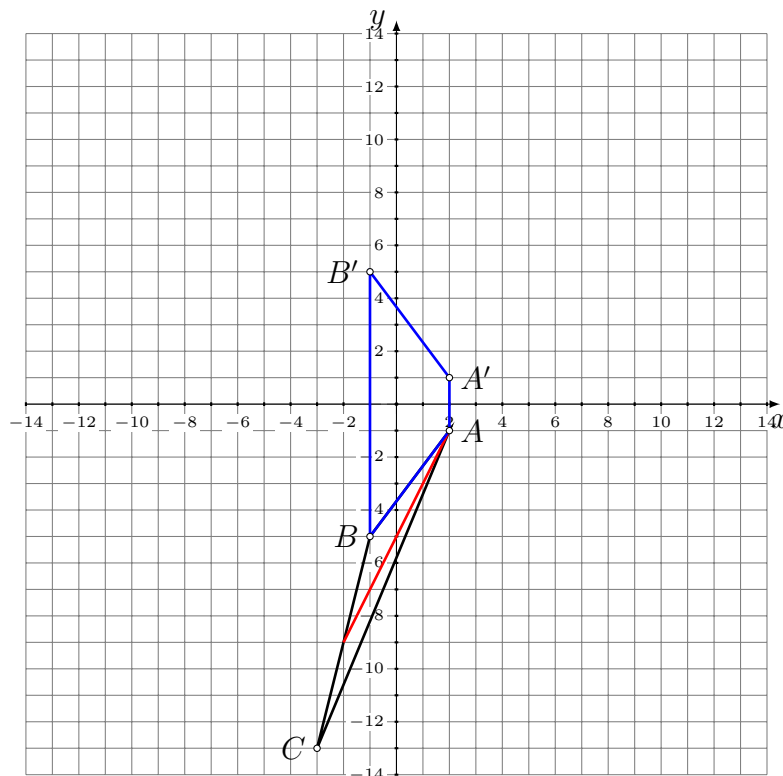
**A2.** Označimo z  $x$  maso mleka v kg. V  $x$  kg mleka je  $0,07x$  kg smetane. Iz te smetane nastane  $0,61 \cdot 0,07x$  kg masla. Velja  $0,61 \cdot 0,07x = 3$ . Sledi, da je  $x \doteq 70,258$  kg. 3 kg masla nastane iz več kot 70 kg mleka.

**A3.** Dani izraz razstavimo po pravilu razlike kvadratov in dobimo  $(x + y + \frac{1}{4} - (x + y - \frac{1}{4})) (x + y + \frac{1}{4} + (x + y - \frac{1}{4})) = \frac{1}{2}(2x + 2y) = x + y$ . Dani izraz lahko preoblikujemo v izraz  $x + y$ .

**B1.**

- Zapis prve enačbe  $\frac{3-2b}{a+4b} = 2$  ..... 1 točka
- Preoblikovanje prve enačbe v  $2a + 10b - 3 = 0$  za  $a \neq -4b$  ..... 1 točka
- Zapis druge enačbe  $\frac{-\frac{3}{2}-2b}{-\frac{1}{2}a+4b} = -1$  ..... 1 točka
- Razreševanje dvojnih ulomkov ..... 1\* točka
- Preoblikovanje druge enačbe v  $a - 4b + 3 = 0$  za  $a \neq 8b$  ..... 1 točka
- Reševanje sistema dveh linearnih enačb z dvema neznankama ..... 1\* točka
- Zapis rešitve  $a = -1, b = \frac{1}{2}$  ..... 1+1 točka

**B2.**



Zapis koordinat razpolovišča stranice $BC$ : $R(-2, -9)$ .....	1 točka
Ugotovitev, da je dolžina težiščnice enaka razdalji med točkama $A$ in $R$ .....	1 točka
Izračun dolžine težiščnice $t_{BC} = d(A, R) = \sqrt{(-2 - 2)^2 + (-9 + 1)^2}$ .....	1 točka
Zapis rešitve $t_{BC} = 4\sqrt{5}$ .....	1 točka
Prezrcaljeni točki $A$ in $B$ ter narisani štirikotnik $AA'B'B$ .....	1 točka
1. način	
Uporaba formule za ploščino trapeza $S = \frac{a+c}{2} \cdot v = \frac{10+2}{2} \cdot 3$ .....	2 točki
Zapis rešitve $S = 18$ .....	1 točka
2. način	
Uporaba formule za ploščino trikotnika ali za ploščino pravokotnika in pravokotnega trikotnika .....	2 točki
Zapis rešitve $S = 18$ .....	1 točka

**B3.**

Razširjanje ulomkov na skupni imenovalc $\frac{\frac{2xy-x}{x+y}}{\frac{1}{y} + \frac{1}{x-2y}} = \frac{\frac{xy-x^2}{x+y}}{\frac{x-y}{y(x-2y)}}$ .....	1 točka
Razreševanje dvojnega ulomka .....	1* točka
Poenostavitev prvega člena izraza v $-\frac{xy(x-2y)}{x+y}$ .....	1 točka
Razcep $x^3 + y^3 = (x + y)(x^2 - xy + y^2)$ .....	1 točka
Poenostavitev $\frac{(x^2-xy+y^2)(x^3-x^3+2x^2y-xy^2)}{(x+y)(x^2-xy+y^2)} = \frac{xy(2x-y)}{x+y}$ .....	1 točka
Poenostavitev izraza $\frac{-xy(x-2y)}{x+y} + \frac{xy(2x-y)}{x+y} = xy$ .....	1 točka
Izraz nima pomena za $y = 0$ , $x = -y$ , $x = 2y$ in $x = y$ .....	2 točki
(Za dve pravilni ugotovitvi 1 točka.)	

## Drugi letnik

A1	A2	A3
C	C	C

**A1.** Simetrala daljice  $AB$  poteka skozi razpolovišče  $S\left(\frac{5}{2}, -\frac{5}{2}\right)$  daljice  $AB$  in je pravokotna na daljico  $AB$ . Smerni koeficient premice skozi točki  $A$  in  $B$  je  $k_1 = \frac{-2-(-3)}{2-3} = -1$ . Torej je smerni koeficient simetrale  $k_2 = -\frac{1}{k_1} = 1$ . Upoštevamo  $y = kx + n$  oziroma  $-\frac{5}{2} = 1 \cdot \frac{5}{2} + n$  in dobimo  $n = -5$ . Torej je enačba simetrale daljice  $AB$  enaka  $y = x - 5$  oziroma  $x - y - 5 = 0$ .

**A2.** Iz kosinusnega izreka  $c^2 = a^2 + b^2 - 2ab \cos \gamma$  in enakosti  $c^2 = a^2 + b^2 + ab$  dobimo  $ab = -2ab \cos \gamma$ . Od tod sledi  $\cos \gamma = -\frac{1}{2}$  oziroma  $\gamma = 120^\circ$ . Trikotnik je topokoten, torej leži višinska točka izven trikotnika.

**A3.**

$$\begin{aligned} \left(\frac{\sqrt{5}-3}{2}\right)^{2016} \frac{\sqrt{5}-3}{2} \left(\frac{\sqrt{5}+3}{2}\right)^{2016} &= \left(\frac{\sqrt{5}-3}{2} \cdot \frac{\sqrt{5}+3}{2}\right)^{2016} \frac{\sqrt{5}-3}{2} = \\ &= \left(\frac{5-9}{4}\right)^{2016} \frac{\sqrt{5}-3}{2} = 1 \cdot \frac{\sqrt{5}-3}{2} = \frac{\sqrt{5}-3}{2}. \end{aligned}$$

**B1.**

Zapis potenc z racionalnimi eksponenti v obliki korenov  $\left(\frac{1}{\sqrt[3]{a^2}} + \frac{\sqrt[3]{a}}{a+2}\right) : \left(\sqrt[3]{a} + \frac{\sqrt[3]{a}}{a+2}\right) \dots 1$  točka

Razširitev na najmanjši skupni imenovalc  $\left(\frac{a+2+\sqrt[3]{a}\sqrt[3]{a^2}}{(a+2)\sqrt[3]{a^2}}\right) : \left(\frac{(a+2)\sqrt[3]{a}+\sqrt[3]{a}}{a+2}\right) \dots 1$  točka

Zapis ali uporaba  $\sqrt[3]{a}\sqrt[3]{a^2} = a \dots 1$  točka

Poenostavitev izraza v prvem oklepaju v  $\frac{2a+2}{(a+2)\sqrt[3]{a^2}} \dots 1$  točka

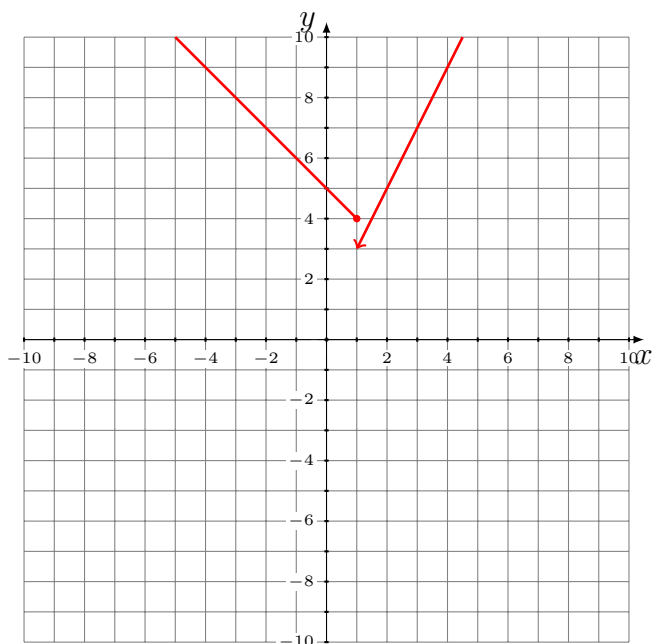
Poenostavitev izraza v drugem oklepaju v  $\frac{(a+3)\sqrt[3]{a}}{a+2} \dots 1$  točka

Zapis  $\frac{2a+2}{(a+2)\sqrt[3]{a^2}} : \frac{(a+3)\sqrt[3]{a}}{a+2} = \frac{(2a+2)(a+2)}{(a+2)\sqrt[3]{a^2}(a+3)\sqrt[3]{a}} \dots 1$  točka

Poenostavitev leve strani enakosti v  $\frac{2a+2}{a(a+3)} \dots 1$  točka

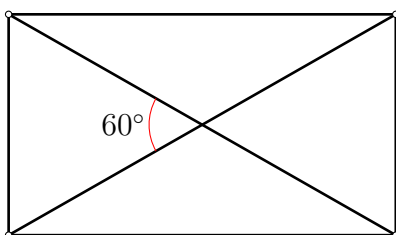
Zapis odgovora oziroma ugotovitev, da enakost velja  $\dots 1$  točka

**B2.**



- a) Narisana premica z enačbo  $y = 2x + 1$  oziroma del te premice ..... 1 točka  
 Narisana premica z enačbo  $y = -x + 5$  oziroma del te premice ..... 1 točka  
 Pravilno označen graf funkcije  $f$  v  $x = 1$  ..... 1 točka
- b) Postopek za izračun predpisa inverzne funkcije ..... 1\* točka  
 Zapis  $g^{-1}(x) = \frac{x-1}{2}$  ..... 1 točka  
 Zapis  $g(x^{-1}) = 2x^{-1} + 1$  ..... 1 točka  
 Zapis enačbe  $x^2 - 3x - 4 = 0$  ..... 1 točka  
 Zapis rešitev enačbe  $x_1 = 4$  in  $x_2 = -1$  ..... 1 točka

**B3.**



- Skica pravokotnika z označenim kotom med diagonalama ..... 1 točka  
 Upoštevanje  $2a + 2b = 4$  ..... 1 točka  
 Zapis ali upoštevanje  $\tan 30^\circ = \frac{b}{a}$  ..... 1 točka  
 Zapis ali upoštevanje  $\tan 30^\circ = \frac{\sqrt{3}}{3}$  ..... 1 točka  
 Reševanje sistema enačb ..... 1\* točka  
 Racionalizacija imenovalca ..... 1\* točka  
 Izračunan  $a = (3 - \sqrt{3})$  cm ..... 1 točka  
 Izračunan  $b = (-1 + \sqrt{3})$  cm ..... 1 točka  
 Opomba: Če v rezultatu ni enot, odštejemo 1 točko.

### Tretji letnik

A1	A2	A3
A	C	D

**A1.** Uporabimo formulo za ploščino pravilnega šestkotnika  $\frac{6a^2\sqrt{3}}{4} = 96\sqrt{3}$  ter izračunamo  $a = 8$  cm. Obseg pravilnega šestkotnika je  $6a = 48$  cm.

**A2.** Izračunamo  $f(\log_a 4) = \frac{1}{\sqrt{a^{\log_a 4}}} = \frac{1}{\sqrt{4}} = \frac{1}{2}$ .

**A3.** Označimo z  $a_1$  dolžino roba male kocke. Upoštevamo, da je prostornina male kocke  $a_1^3 = \frac{a^3}{8}$  in dobimo  $a_1 = \frac{a}{2}$ . Torej velja  $P = 6a_1^2 = 6\left(\frac{a}{2}\right)^2 = \frac{3a^2}{2}$ .

#### B1.

Ugotovitev, da je  $s = 3$  m ..... 1 točka  
 Zapis ali uporaba enakosti  $2\pi r = \frac{\pi \cdot 3 \cdot 120^\circ}{180^\circ}$  ..... 2 točka  
 Izračun dolžine polmera  $r = 1$  m ..... 1 točka  
 Izračun višine  $v = \sqrt{s^2 - r^2} = 2\sqrt{2}$  m ..... 1 točka  
 Izračun površine stožca  $P = \pi r(r + s) = 4\pi$  m ..... 1\* točka  
 Izračun mase  $m = 4\pi \cdot 0,16$  kg  $\doteq$  2 kg ..... 1 točka  
 Zapis odgovora ..... 1 točka

#### B2.

a) Zapis enačbe  $3 = (m - 2) \cdot 4 + 4m + 3m$  ..... 1 točka  
 Izračun vrednosti parametra  $m = 1$  ..... 1 točka  
 Zapis predpisa funkcije  $f: f(x) = -x^2 - 2x + 3$  ..... 1 točka

b) Izračun vrednosti parametra  $m = 2$  ..... 1 točka  
 Ugotovitev, da je za tako izračunani  $m$  graf funkcije  $f$  premica ..... 1 točka  
 Zapis predpisa funkcije  $f: f(x) = -4x + 6$  ..... 1 točka  
 Postopek za izračun predpisa inverzne funkcije ..... 1 točka  
 Zapis predpisa inverzne funkcije funkcije  $f: f^{-1}(x) = -\frac{1}{4}x + \frac{3}{2}$  ..... 1 točka

#### B3.

Preoblikovanje prve enačbe v  $\log_3 \frac{2x^2}{y} = 2$  za  $x > 0$  in  $y > 0$  ..... 1 točka  
 Upoštevanje definicije logaritma  $\frac{2x^2}{y} = 9$  ..... 1 točka  
 Ugotovitev, da je  $\sqrt{2x - y} - 2,5 = 0$  ..... 1 točka  
 Zapis enačbe  $2x - y - 2,5 = 0$  ..... 1 točka  
 Reševanje sistema enačb  $2x^2 = 9y$  in  $2x - y - 2,5 = 0$  ..... 1 točka  
 Ureditve do kvadratne enačbe  $4x^2 - 36x + 45 = 0$  ..... 1 točka  
 Zapis rešitev sistema enačb  $x_1 = \frac{15}{2}, y_1 = \frac{25}{2}$  in  $x_2 = \frac{3}{2}, y_2 = \frac{1}{2}$  ..... 1+1 točka

Četrty letnik

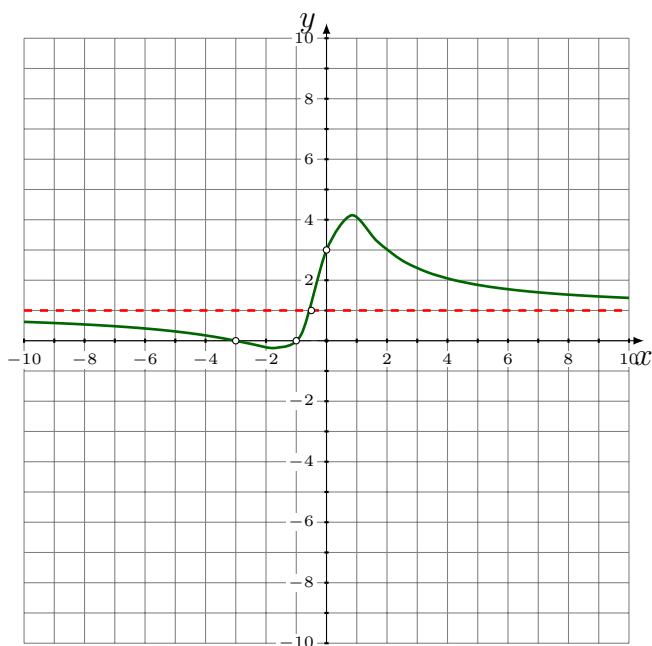
A1	A2	A3
E	D	D

**A1.** Upoštevamo  $\frac{a+b}{2} = 65$  in  $\sqrt{ab} = 60$ . Preoblikujemo v sistem enačb  $a + b = 130$  in  $ab = 3600$ . Iz prve enačbe izrazimo  $b = 130 - a$  in vstavimo v drugo enačbo ter jo preoblikujemo v  $a^2 - 130a + 3600 = 0$ . Dobimo rešitvi  $a_1 = 40$  in  $b_1 = 90$  ter  $a_2 = 90$  in  $b_2 = 40$ . Torej sledi  $|a - b| = 50$ .

**A2.** Ugotovimo, da moramo sešteti  $n$  členov aritmetičnega zaporedje z diferenco  $d = 2,5$ . Upoštevamo  $a_n = a_1 + (n-1)d$  oziroma  $2501 = 1 + (n-1) \cdot 2,5$ . Rešimo enačbo in ugotovimo, da moramo sešteti 1001 členov. Upoštevamo  $S_n = \frac{n}{2}(a_1 + a_n)$  ali  $S_n = \frac{n}{2}(2a_1 + (n-1)d)$  in dobimo  $S_{1001} = 1252251$ .

**A3.** Ničle funkcije  $f$  so rešitve enačbe  $\frac{1}{2} - \frac{1}{2} \cos x = 0$ , torej  $x = 2k\pi, k \in \mathbb{Z}$ , in ne  $x = k\pi, k \in \mathbb{Z}$ .

**B1.**



- Izračun ničel  $x_1 = -3$  in  $x_2 = -1$  in ugotovitev, da funkcija nima polov..... 1 točka
- Zapis enačbe vodoravne asimptote  $y = 1$  in koordinat presečišča grafa funkcije  $f$  z ordinatno osjo  $x = 0$  in  $y = 3$  ali  $N(0, 3)$  ..... 1 točka
- Izračun koordinat presečišča grafa funkcije  $f$  z vodoravno asimptoto  $x = -\frac{1}{2}$  in  $y = 1$  ali  $P(-\frac{1}{2}, 1)$  ..... 1+1 točka
- Narisan graf funkcije  $f$  ..... 2 točki
- Ugotovitev, da je funkcija  $f$  pozitivna za vsak  $x \in (-\infty, -3) \cup (-1, \infty)$  ..... 1\*+1 točka

**B2.**

- Odvod funkcije  $f: f'(x) = \frac{1}{x^2}$  ..... 1 točka
- Odvod funkcije  $g: g'(x) = x^2 - 2x - 6$  ..... 1 točka
- Upoštevanje  $k_1 = f'(a) = \frac{1}{a}$  in  $k_2 = g'(a) = a^2 - 2a - 6$  ..... 1+1 točka



- Upoštevanje  $k_1 k_2 = -1$  oziroma  $\frac{a^2 - 2a - 6}{a} = -1$  ..... 1 točka  
 Preoblikovanje enačbe v  $a^2 - a - 6 = 0$  ..... 1 točka  
 Zapis rešitev kvadratne enačbe  $a_1 = 3$  in  $a_2 = -2$  ..... 1 točka  
 Ugotovitev, da rešitev  $a_2 = -2$  ne ustreza ( $f(-2)$  ne obstaja) ..... 1 točka

**B3.**

- a) Upoštevanje, da je v geslu 6 črk in ena številka ..... 1 točka  
 Ugotovitev, da je 7 možnih položajev za številko ..... 1 točka  
 Izračun števila možnih razporeditev črk v geslo  $8 \cdot 7 \cdot 6 \cdot 5 \cdot 4 \cdot 3$  ..... 1 točka  
 Izračun števila možnih izbir za geslo  $7 \cdot 8 \cdot 7 \cdot 6 \cdot 5 \cdot 4 \cdot 3 = 141120$  ..... 1 točka
- b) Ugotovitev, da je vseh možnih izbir za geslo, če ne bi bilo omejitve, da mora vsebovati vsaj eno črko in vsaj eno številko, enako  $9^7$  oziroma 4782969 ..... 1 točka  
 Ugotovitev, da je vseh možnih izbir za geslo, ki bi vsebovalo samo črke, enako  $8^7$  oziroma 2097152 ..... 1 točka  
 Ugotovitev, da je samo eno geslo, ki je sestavljeno samo iz številke 3 ..... 1 točka  
 Izračun števila možnih izbir za geslo  $9^7 - 8^7 - 1 = 2685816$  ..... 1 točka